

# 数学的思考力を深めるために

—— 帰納と類推について ——

天 川 義 昭  
池 田 克 己  
藺 森 正 栄

## 1. はじめに

図形のみならず数量教材においても論証指導がかなりのウエイトを占めている。すべての内容にわたって論証することは生徒の心的発達段階を考えれば無理な点が多い。ときには、観察や直観によって処理していくことは教育的見地からみて妥当なことである。帰納によって法則なり定理を発見し、一般化へと展開していく方法は比較的多くの場面で利用されている。しかし、類推によって定理の拡張を図ったり、新しい定理を創造したりというとらえ方は帰納ほど扱われていないと思う。論証という思考形式は3ヶ年間でかなりの程度まで習得していくようだ。しかし、帰納的に考察しようとする態度や類比、類推によって新しい性質を発見しようとする積極的な態度は論証ほど習得されていないように思える。そこでもっと帰納、類推を重視した教材の取り扱いを考えなければならないと思う。図形教材の中には類推を扱うにふさわしい教材のモデルが多く存在している。それらのモデルの中からどのモデルをどんな時期にどんな内容とからまぜて指導していけばよいか創意工夫して行かねばならない。そして、帰納、類推という数学的な見方、考え方を養い数学的な思考力を一段と深めていきたいと思っている。

可能な限り授業の中に取り入れて実施しているが、今回は各学年でそれぞれ比較的新しい内容で生徒の考え方、とらえ方をできるだけ多く把握し問題点を分析し今後の指導の際の資料にしたいと思いつかの調査を実施した。

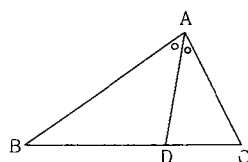
## 2. 調 査

図形教材のなかには、類比、類推によってまとめられる例が少なくない。生徒にとっては一見別のように見えるが、実は類似の問題であったり、また互いに他の拡張されたものであったり、特殊化されたものであることが多い。新しい教材の学習についても低学年では特殊から一般への帰納的方法が理解され易く、学年が進むにつれ一般から特殊へ演繹的方法もくみ入れられて体系的にまとめる方法がとられている。

まず図形教材から類比される例をとりあげ、生徒がどの程度類推できるものか調査してみた。

### 調査1

問1.  $\triangle ABC$ で $\angle A$ の2等分線が $BC$ と交わる点を $D$ とするとき  
 $BA : AC = BD : DC$ となることを証明せよ。



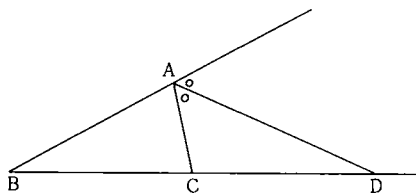
問2. 前問で、∠Aの2等分線を∠Aの外角の2等分線に変えたとき、すなわち  
 $\triangle ABC$ で∠Aの外角の2等分線がBC(の延長)と交わる点をDとすると、結論はど  
 うなると思うか。予想をたてよ。

BA:AC=( ):( )

またそれはどのようなことから、または  
 どのような方法で予想したか。

( )

上の結論を証明してみよ。



調査1の問1はどの教科書でも練習問題としてとりあげられている。この場合その証明方法もいろいろあるが、一般にヒントになる線等を与えて安易な問題にしてしまうことが多い。この配慮が逆に生徒の自由な思考を疎外、制約していることになっている。生徒の自由な思考の展開によって、いわゆる比の移動についての既習事項を活用し、整理する適切な例題である。ともかく、この問1の条件の一部を変えさせてそのときの結論をどの程度類推できるか、またその証明と前問1の証明との関連をどの程度関係づけられるかを調べることにした。結論はふつう

BD:CD=……とあるべきだろうが、生徒に結論を発見させることから考えて、故意に  
 BA:AC=……とした。

調査対象は2年の2クラス83人で、平行線と比例の指導のあとである。問1については授業でとりあげ、その後1ヶ月経て次の単元に入ってからこの調査を実施した。問2については授業では全く触れずにしてあった。

表I

		問1(内角)の証明		
		正解	否	計
問2(外角) の証明	正解	45	0	45
	否	34	4	38
計		79	4	83

表II 問1 正解の79人について

		問2の結論の予想	
		正	誤
問2の 証明	正解	45	0
	否	10	24
計		55	24

表1は問1、問2の正解のようすを調べたもので、問1(内角)の証明ができたのは79人(約95%)でそのうち問2の証明もできたのは45人(約54%)であった。

問1の正解者79人について問2の結論の予想を調べると表IIに示すように55人(約70%)が正しい予想をたてている。またそれはどのようなことからその予想をたてたかをみると次に示すように大半は問1とほぼ同じ結論だろうとか、同じ方法で平行線をひきながら証明の見通しがたったから、または何とか解けそうだからというのが多い。

表III

予想した結論が正しかった55人について どのような方法で予想をたてたか	問2(外角)の証明	
	正解	否
内角の2等分線で成り立ったから外角のときも同じだと思う	18	4
前問と同じように平行線をひいていったら証明の見通しがついた	16	
平行線をひいてBA:ACをうつしていったらできそう	2	
はじめBC:CD(またはBD:BC)になると思ったがうまくいかず BD:CDとしてみたらうまくいきそうだった	4	
何となく	5	1
?		5
合計	45	10

予想した結論が誤った24人について、実際にその結論を列挙すると次の通りである。左辺のBA:A Cが折線の比であるためにそのまま右辺に折れ線の比(三角形の相似?)をかいたり、問1では右辺がBD:C Dという直線上の比であったが、まさか問2でBD:C Dのように一部重なってくるとは思わなかったのであろう。すなわち問1、とは別に新しく考えたり、くらべて考えてもそれは極くうわべの視覚的な比較にすぎない。

表IV 予想が誤っていた結論

AD:DC	AD:AC	CD:AC	BD:AD	BC:AC	BD:AB	BC:CD	BD:BC	2:1	?	計
1	1	2	1	2	3	4	3	1	6	24

## 証明方法の類比について

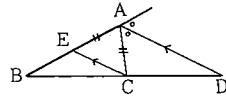
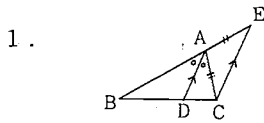
表Vは問1の正解者79人について、その証明方法と問2の証明方法(できなかったものについては、図にひかれていた補助線)との関係を表にしたものである。証明方法は生徒が用いたものおよび、用いようと思って答案にひかれた補助線等より一応10種類に分けた。

問1を授業で取り扱ったとき、生徒の方から発表されたのはクラスによって異なるが、大体1、2、3、7、8、9の方法だった。但しそのとき7を用いた生徒はその前半を1の方法で解いていた。即ち要点のみ示すと、

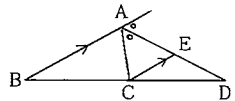
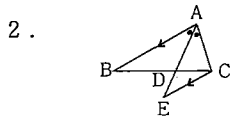
AB上に点E、BD上に点E'をとりAE=AC、EE' // AD とすれば、 $\triangle ADE \cong \triangle ADC$   
DE=DE' となり BA:AC=BA:AE=BD:DE'=BD:DE=BD:C D

また問2を7の方法で解いた生徒は何れも面積で考えたのではなく、問1を定理として用いている。問1で10の方法を用いた生徒は、授業のときには発表されなかったものである。また問2へそのまま発展させることはできなかったようである。

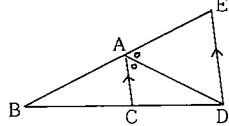
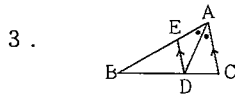
証明方法



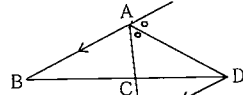
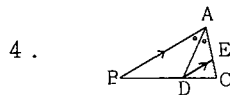
$$BA : AC = BA : AE \\ = BD : DC$$



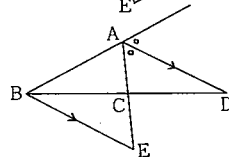
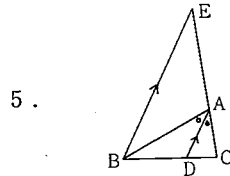
$$BA : AC = BA : EC \\ = BD : DC$$



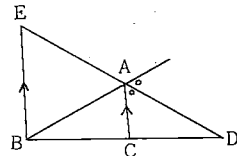
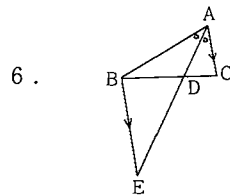
$$BA : AC = BE : ED \\ = BE : EA \\ = BD : DC$$



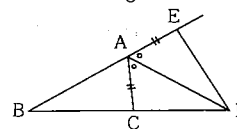
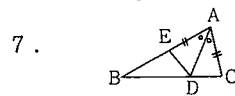
$$BA : AC = DE : EC \\ = AE : EC \\ = BD : DC$$



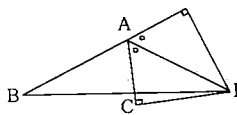
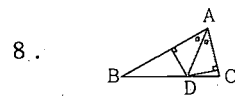
$$BA : AC = EA : AC \\ = BD : DC$$



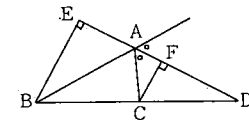
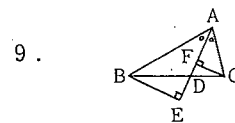
$$BA : AC = BE : AC \\ = BD : DC$$



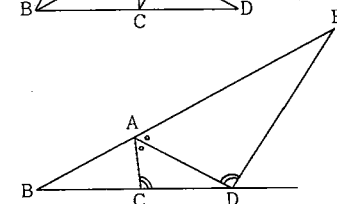
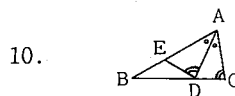
$$BA : AC = BA : AE \\ = BD : DE \\ = BD : DC$$



$$BA : AC = \triangle DBA : \triangle DAC \\ = \triangle ABD : \triangle ADC \\ = BD : DC$$



$$BA : AC = BE : FC \\ = BD : DC$$



$$BA : BD = AD : ED \\ = AC : DC \\ \therefore BA : AC = BD : DC$$

表V

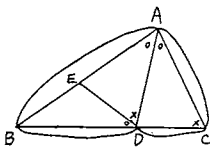
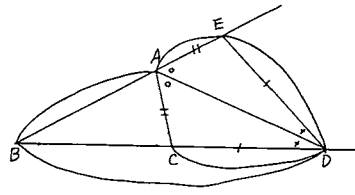
問1 (内角)の証明の正解者79人について

問1 (内角)の証明方法と問2 (外角)の証明方法(補助線)との関係

表中( )内の数は、問2 (外角)の証明への補助線をひいたが証明のできなかった人数……予想の誤まった者を含む。

問2 (外角)の証明に 用いた、または 証明しようとして ひいた補助線の ひき方	問1 (内角)の 証明法	1	2	3	4	5	6	7	8	9	10	11 (その他)	計
	問2 (外角)の証明法												
1	1	19 (1)	1	3			1	1	1				26 (1)
2	2	1	1										2
3	3	9 (17)	(3)	3 (1)						(1)			12 (22)
4	4		(1)										(1)
5	5	(3)											(3)
6	6	1	1										2
7	7	1 (3)	1 (1)								(1)		2 (5)
8	8								1				1
9	9												
10	10												
11 その他	11 その他	(2)											(2)
計	計	31 (26)	4 (5)	6 (1)			1	1	2	(1)	(1)		45 (34)

生徒の答案例

②より AB への直線が、 $\angle ACD = \angle ADE$  となるように AB 上に点 E をとる。

$\triangle ACD$  と  $\triangle ADE$  で、  
 $\angle DAC = \angle EAD$   
 $\angle ACD = \angle ADE$  だから  $\triangle ACD \sim \triangle ADE$   
 $\therefore DE : AD = DC : AC$  — ①  
 $\triangle BDE \sim \triangle BAD$  で、  
 $\angle CAD + \angle ACD = \angle ADB$   
 $\angle ACD = \angle ADE$  だから、  
 $\angle BDE = \angle CAD = \angle DAB$   
 $\angle B$  は共通  
 $\therefore \triangle BDE \sim \triangle BAD$   
 $\therefore BD : DE = BA : AD$  — ②  
 ①, ②より  $BD : BA = DC : AC$   
 $\therefore BA : AC = BD : DC$

$AC = AE$  となる点 E を AB の延長上にとり  
 $\triangle DAE$  と  $\triangle DAC$  にあたり  
 $AE = AC$   
 $DA = DA$  (共通)  
 $\angle DAE = \angle DAC$   
 $\therefore \triangle DAE \cong \triangle DAC$  — ①  
 $\therefore \angle ADE = \angle ADC$  — ②  
 $\triangle DEB$  にあたり  
 ②より DA は  $\angle ECB$  の二等分線である  
 $\therefore ED : DB = EA : AB$   
 ①より  $AE = AC, DE = DC$   
 $\therefore DC : DB = AC : AB$   
 ①, ②より  $BA : AC = BD : DC$

結論は一見上手に予想、推測できたようにみえても、証明の手順まで同じように類推できるとはいえず、その数は決して多いといえない。表 V の対角線上の 24 人がそれにあたる。前述のように問 1 と同じように平行線をひいて考えたといっても、全て記号まで含めて同じ方法をとったとは限らず、全般的には図の形だけから外見的に判断していくようである。そこで証明方法の類推の傾向を分析してみると

- (ア) 問 1 で方法 1 → 問 2 で方法 1 点 C から DA と平行な直線をひく…………… 19 (1)
- (イ) 問 1 で方法 3 → 問 2 で方法 3 点 D から CA と平行な直線をひく…………… 3 (1)
- (ウ) 問 1 で方法 1 → 問 2 で方法 3 外側に向けて平行線をひく…………… 9 (17)
- (エ) 問 1 で方法 3 → 問 2 で方法 1 内側に向けて平行線をひく…………… 3 (0)
- (オ) 問 1 で方法 1 → 問 2 で方法 7 BA の延長上に AC と等しい線分をとる 1 (3)

全般的には、生徒には類推しようとしている傾向はみられるが、まだ視覚的な類推のみの域を脱していない者が多い。このことは上の(ウ)、(エ)、(オ)の欄がそれを示していると思われる。(難易度からみると(ウ)、(オ)は難かしくなり(エ)は易しくなったと感ずるであろう。)類比、類推による学習の初期の段階であると思われる。証明のときによく用いられる「同様にして……………」という述べ方の指導と合わせて、安易な気持ちで使うものでなく、そのうちにある論理的な意味が含まれていることの指導が望まれると思う。

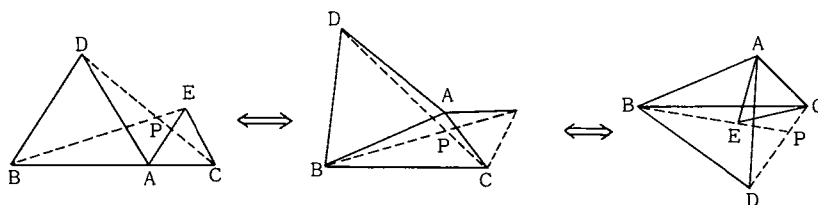
次に問 2 の証明できなかった 34 人について、はじめの結論の予想がどうであったかを調べたのが表 VI である。結論の予想が誤っていた 24 人については証明できぬのは当然のことである。この中にはもし正しい結論を与えていたら多分できたであろうと思われる生徒が約半数になる。彼らには結論を含めた問であるから再度予想をふり返り吟味する必要を指導せねばならない。

表VI 問2(外角)の証明のできなかつた34人について 結論の予想の可・否

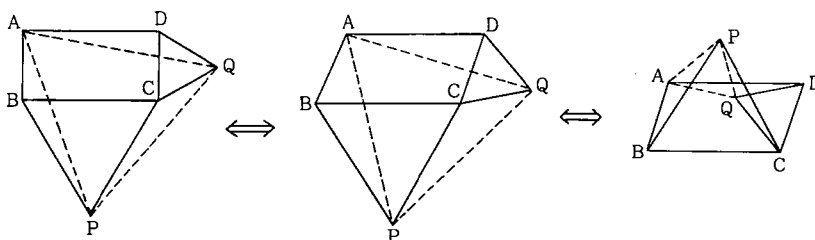
問2 (外角)の証明に ひいた補助線	結論の予想	
	正解 10人	否 24人
1		1
2		
3	7	15
4	1	
5		3
6		
7	2	3
8		
9		
10		
11		2

条件を変更することによって類似の問題をつくる例

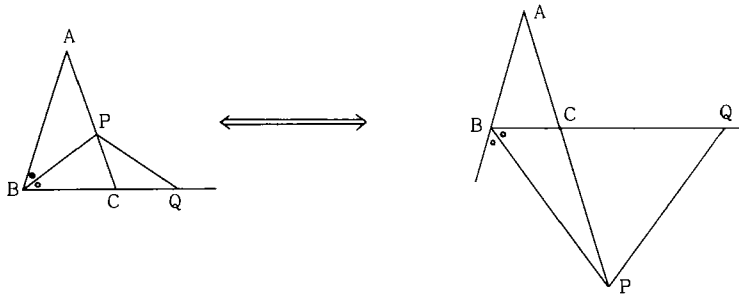
- (1)BA、ACを一辺とする正三角形DBA、EACを同じ側につくり、BEとCDの交点をPとすれば  $BE=DC$ 、 $\angle DPB=60^\circ$ となる。



- (2)長方形(平行四辺形)の辺BC、CDを各々一辺とする正三角形BCP、CDQを外側(内側)につくれば、 $\triangle APQ$ は正三角形となる。



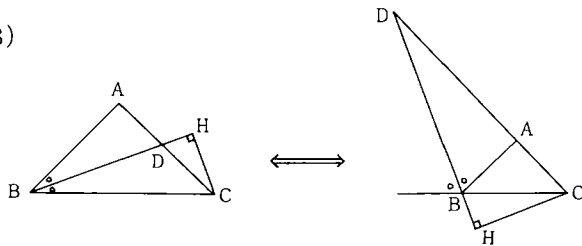
- (3)BCを底辺とする二等辺三角形ABCで、 $\angle B$ (の外角)の2等分線とAC(の延長)との交点をPとし、BCの延長上に $CP=CQ$ となる点Qをとれば、 $\triangle BPQ$ は二等辺三角形となる。



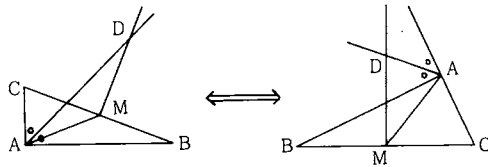
(4) BCを底辺とする直角二等辺三角形ABCで、 $\angle B$  (の外角) の2等分線とAC (の延長) との交点をDとし、CよりBDにひいた垂線をCHとすれば

$$BD = 2 \cdot CH$$

$$BC = AD + AB \quad (BC = AD - AB)$$

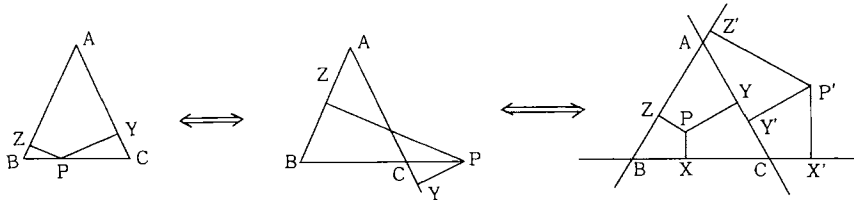


(5) 直角三角形ABCの斜辺BCの垂直二等分線と、 $\angle A$  (の外角) の2等分線の交点をDとし、BCの中点をMとすれば、 $MA = MD$

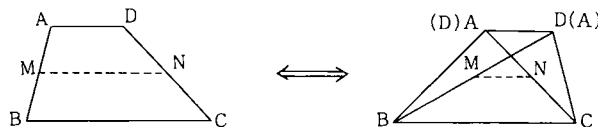


(6) 二等辺三角形ABCで、底辺BC (の延長) 上の点PよりAC、ABへ垂線PY、PZをひくとき、PYとPZの和 (差) は一定である。

(正三角形ABC内の1点Pより各辺におろした垂線PX、PY、PZの和は一定となる。また点Pが $\triangle ABC$ の外部にあるとき、さらに辺の延長上にあるとき、3つの垂線PX、PY、PZの間にどのような関係が成り立つか。)

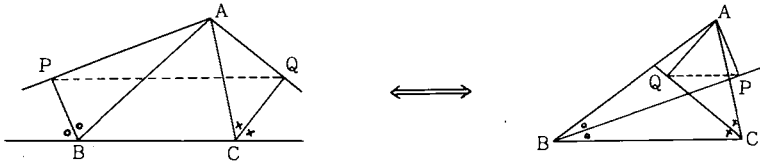


(7) 台形ABCDで $AD \parallel BC$ であるとき、AB、DC (対角線DB、AC) の中点をM、Nとすれば、MNはADとBCとの和 (差) の2分の1である。





(8)  $\triangle ABC$ の $\angle B$ 、 $\angle C$ の各外角(内角)の2等分線に頂点Aからひいた垂線をAP、AQとすれば、 $PQ \parallel BC$ 、PQは $AB+AC$ とBCとの和(差)の2分の1である。



3年間で習得した知識、技能をもとにして新しい問題に出会ったとき、それをどのように解決していくか、生徒の素朴な考え方、とらえ方を把握するために

- (1) 既習の内容にも関連するがいままでに扱ったことのない内容をもった問題
- (2) 興味関心をもてそれに積極的にとりくめる問題
- (3) 既習の知識技能をもとにしていろいろと生徒なりに見通しをたてたり考察できる問題等を考慮して調査2、3を作成した。

調査2

斜辺の長さをc、直角をはさむ2辺の長さをa、bとしたとき、a、b、cがすべて整数となる直角三角形を考える。a、b、cがそれぞれどんな値になる場合があるか調べたい。

a	b	c
3	4	5
5	12	13
7	24	25
9	40	41
11	60	61
13		
15		

- (1) 左の表の空所をうめよ。
- (2) a、b、cの間にどんな規則なり関係があると予想できるか。
- (3) bの値の数の列4、12、24、40、60………に着目する。

始めから3番目の数24は  $24 = 4 + 8 + 12$

5番目の数60は  $60 = 4 + 8 + 12 + 16 + 20$  と表わすことができる。

⑦ 始めからn番目の数は上のように考えると次のように表わすことができる。

終わり2つの( )にあてはまるnの式を入れよ。

$$4 + 8 + 12 + 16 + \dots + ( ) + ( )$$

⑧ n番目にくる数をnの式で表わしたい。下にのべてある公式を用いて求めよ。

数の列  $x_1, x_2, \dots, x_n$ がある。(  $x_1$ から始まって  $x_n$ で終わり、数が全部でn個ある。)

どのとなり合った2数の差をとってもつねに一定であるとき

$$x_1 + x_2 + \dots + x_n = \frac{n(x_1 + x_n)}{2} \text{ である。}$$

たとえば、数の列3、7、11、15………75、79では、どのとなり合った2数の差をとってもつねに4である。数は全部で20個ある。ゆえに

$$3 + 7 + 11 + 15 + \dots + 75 + 79 = \frac{20(3 + 79)}{2} = 820$$

(4) a、cの始めからn番目にくる数をそれぞれnの式で表わせ。

始めて取り組む内容であるから、調査に入る前に問題の内容、構造を把握させて、興味、関心意欲を喚起させることが必要だと思う。

直角三角形ABCで、3辺の長さがすべて整数になる直角三角形をいろいろと調べてみよう。その列として知っているものをあげさせると、次頁の表のようなものがあがる。ここで、6、8、10；10、24、26等はいあまり面白くない。それらは、3、4、

a	b	c
3	4	5
6	8	10
5	12	13
10	24	26
⋮	⋮	⋮

5; 5, 12, 13からなるもっとも簡単な直角三角形と相似になるからである。おたがいに相似にならない本質的に異なったものをいろいろと考えたい。3, 4, 5; 5, 12, 13のほかにもどんなものがあるか調べてみよう。この程度の事前指導をしたあと調査問題を配布して解かせたところ以下に述べるような結果がえられた。調査人数は79人である。

c \ b	正答	誤答
正答	68	2
誤答	1	8

(1)について 正答、誤答は下の表のようである。無答は3人、b,cともに最後の空所をまちがったものが4人であった。どういう方法でb,cの値を求めたかは調べるものはないが、おそらく(2)で述べる変化の規則性に目をつけて求めたものが多いと思われる。

(2)について この調査のねらいは(2)にある。表より関数的な見方、考え方がいかに生かされて正しい予想ができるか。更に、どんなすばらしい予想がでてくるか生徒の実態を把握することがねらいである。

### 変化に着目したもの

まず、大局的な見方として

- ① aの値が増加するにつれて、bの値も増加し、その値は4の倍数になっている。またcの値も増加し、その値はすべて奇数である。……………22人

局所的な見方として

- ② aの値がすべて奇数で、2ずつ増加するにつれて、b,cではともに第2階差は一定である。……………38人
- ③ aの値が2ずつ増加するにつれて、b,cではその増加量が等しく、8, 12, 16, …と増加する。……………22人
- ④ aがnからn+2に変化すると、bもcもともに2(n+1)増加する。……………8人
- ⑤ a+c-bは4, 6, 8, 10…となりa+b-cは2, 4, 6, 8, …となり、第2階差は一定である。……………6人

### 対応に着目したもの

対応に着目してa,b,cの間にどんな関係式が成立するか帰納から直観から見出したと思われるものが多かった。

- ①  $c = b + 1$  ……58人      ②  $a^2 = b + c$  ……16人      ③  $b = \frac{a^2 - 1}{2}$      $c = \frac{a^2 + 1}{2}$  ……11人
- ④  $c - a = 2n^2$      $b - a = 2n^2 - 1$ , ただしnは自然数 ……4人
- ⑤  $a + c - b = 2n + 2$  または  $a + c - b = \frac{b}{n}$ ,  $a + b - c = 2n$ ,  $b^2 = 2n^2(a + c)$  ただしnは自然数 ……5人
- ⑥ a=3のとき  $b = 3 \times 1 + 1 = 4$ ,  $c = 3 \times 1 + 2 = 5$ ; a=5のとき  $b = 5 \times 2 + 2$ ,  $c = 5 \times 2 + 3$ ; a=7のとき  $b = 7 \times 3 + 3$ ,  $c = 7 \times 3 + 4$  以下同様に ……6人

### その他

- ① a,b,cのうち少なくとも1つは素数である。
- ② a+b-cもa+b+cもともに偶数である。
- 関数での主なねらいは変化であり対応である。2変数のものについての考察が主で3変数のもの

ついで考察はほとんど扱っていない。だから、どう対処して処理し予想をたてるか興味のあるところである。変化に対しては、おおむね予想された見方ができてきている。一方の変数の増加量に対して、他方の変数の増加量がどうなっているかに着目して、第2階差が一定であることに気づいた生徒が約半いたことは心強い。大局的な見方や局所の見方がある程度身につけているようである。

対応に対してはこちらで予想していなかったことがいくつかあった。aとbの関係、aとcの関係、bとcの関係というように2変数の関係を予測したものから、a,b,cの関係までにも予測した生徒がいたりして、生徒の洞察力、直観力のすばらしさに驚たんしている。どういうふうに予測したか、そのプロセスがかかされていないので生徒の着想を明確につかむことはできない。しかし3年生にもなると、直観力、洞察力を足場にして更に一歩進んで理づめで関係を導き出していく傾向が強いようである。たとえば  $b = \frac{a^2-1}{2}$  の関係を次のように導き出している。

①  $a^2+b^2=c^2$  に  $c=b+1$  を代入して  $a^2+b^2=(b+1)^2$  ゆえに  $b = \frac{a^2-1}{2}$

②  $b = \frac{1}{2}a(a+1) - \frac{1}{2}(a+1) = \frac{1}{2}(a^2-1)$  とか  $b = \frac{1}{2}a(a-1) + \frac{1}{2}(a-1) = \frac{1}{2}(a^2-1)$

この過程で  $b = \frac{1}{2}a(a+1) - \frac{1}{2}(a+1)$ ,  $b = \frac{1}{2}a(a-1) + \frac{1}{2}(a-1)$  の関係をどうして導き出したものか。表にでている値から推定したものだとするとすばらしい洞察力だと思う。

更に対応に着目して変化するもののなかに不変のものを発見することは関数指導の重要な柱である。和、差、積、商が一定という見方は関数指導において扱っている。この見方が生かされて、 $c-a$ ,  $b-a$ に着目し、 $c-a$ は2, 8, 18, 32, 50……となって  $c-a = 2n^2$  という関係がえられる。 $b-a$ についても同様である。 $c-a$ ,  $b-a$ に着目した着想がすばらしい。こういう芽を十分に伸ばしていく指導が不断から十分なされていなければならないと痛感した。

変化のところで  $a+b-c$ ,  $a+c-b$ に着目した着想もすばらしい。 $a+b-c$ は2, 4, 6, 8……となることから  $a+b-c = 2n$  の関係がえられる。 $a+c-b$ は4, 6, 8, 10……となることより  $a+c-b = 2n+2$  の関係が導きだされるのだが、 $a+c-b = \frac{b}{n}$  という関係を導き出したものもある。

⑥のように一般化するところまでには到達していないが、具体例から帰納的にaとbの関係やaとcの関係を見出している。おそらく、一般化することまで目を向けさせれば、

$b=an+n$ ,  $c=an+n+1$  の関係まで導き出せると思う。

調査問題でbのn番目にくる数をnの式で表わすのにヒントを与えたが、自由に考えさせて求めさせた方がいろいろな方法や考え方をみることができよかったのではないかと反省している。

帰納や類推によってえられる事柄はあくまでも予想である。いくつかの具体例から帰納的に性質を予想するのだから正しいもの正しくないものや余り価値のないもの等いろいろとでてくる。それらによって生きた授業が生まれてくることが多い。そのためにどの程度の具体例をあげていけばよいか考えねばならない。与えられた表の値から、a, b, cの少なくとも1つは素数であるという予想をたてた生徒が数名いた。この予想は当然でてくるものである。しかし、この予想は正しくない。たとえば  $a=21$ ,  $b=220$ ,  $c=221$  等がある。予想が正しければ1年の段階では実測、観察を用い、2年3年の段階では論証を用いることになる。正しくなければ反例が1つあけるとよいわけだが反例を探すことに手間がかかって容易でないことがある。

(3)  $a = 2n + 1$  正解43人

奇数は2でわると1余る数であるから、nを自然数とすると  $2n+1$ と表わされると考えるものが多い。aは3から始まる奇数。だから、nを自然数とすると、 $3 + 2(n-1) = 2n+1$  とし て求めたものも数名いた。これは、初項が3、公差2の等差数列の一般項を求める方法であるが、

そのようなことを知らなくても、3, 5, 7, 9……と続く奇数の列をみて帰納から出発して法則を見出し求めたものである。また、 $a^2=b+c$ に  $b=2n^2+2n$ 、 $c=2n^2+2n+1$ を代入して求めた生徒が6人いた。ヒントに与えた等差数列の和を求める公式を用いようとして誤った生徒が8人いた。公式の中味が十分に理解できなかったことが原因である。これは未習の内容であるから当然の結果である。

$$b=2n^2+2n \quad \text{正解52人}$$

aを求めるよりもbを求める方がむずかしいのだが、結果は予想外に後者の方が高かった。ヒントによらなくても、③、④、⑥の関係式を用いれば、 $a=2n+1$ を代入することによって、b,cをnの式で表わすことができるわけだが、これ等の関係を用いたものが6人いた。

③の⑦の( )内にnの式を正しく入れたものが71人で、そのうちの45人のものが、ヒントを用いて解答していた。

$$c=2n^2+2n+1 \quad \text{正解32人}$$

少なくともbの正解者がほとんどできると思ったが予想外に悪かった。c=b+1の関係を見出していながら、それを利用できなかったものが13人もいた。bとcの関係に着目せずに、cの数の列に着目してbと同様にヒントを利用しようとして誤ったものが数名いた。

類推を取り扱うには、概念の類推、性質の類推、論証の類推と3つの面を考え相互に関連づけていかねばならない。数学の問題を上手に解くには、この論証の類推が有効である。似ている点と異なる点をまず明確につかむことが大切である。bの求め方を利用するとすれば、異なっている点をどう考えることによって、bの方法に帰着できるかと考察する態度をいろいろな場面を利用して養っていくことが重要だと思う。だから、bの求め方を利用しようとするねらいはよいわけだが、実際には上手に解けたものは1人もいなかった。たとえば、 $\frac{n(5+4n)}{2}$ 、 $\frac{n\{5+4(n-1)\}}{2}$ といった誤答があった。

### 調査3

自然数を3でわると余りが0になるか、1になるか、2になるかである。余りが0になる自然数の集合をA、余りが1になる自然数の集合をB、余りが2になる自然数の集合をCとする。次の各問に答えよ。

- (1) nを整数として集合A、B、Cに属する数をそれぞれnの式で表わせ。
- (2) ⑦  $1^2, 2^2, 3^2, 4^2, 5^2, \dots$ のような平方数を3でわったときの余りを( )内にかかけ。  
 $1^2 \dots ( ) \quad 2^2 \dots ( ) \quad 3^2 \dots ( ) \quad 4^2 \dots ( ) \quad 5^2 \dots ( ) \quad 6^2 \dots ( ) \quad 7^2 \dots ( )$
- ④ ⑦の結果からどんなことが推定できるか。推定したことを文章で述べよ。
- ⑦ ④で推定したことが正しいことを証明せよ。

問題の内容からもわかるように法則や定理を帰納的にどの程度に推定できるか。そして、推定したことがらを、既習の定理を用いてどの程度に証明できるかを問うものである。

(1)は(2)の⑦で証明するために必要な基本事項である。調査人数79人に対して正解は56人であった。主な解答は次のようなものである。

① A、B、Cに属する数を  $\frac{n}{3}$ 、 $\frac{n-1}{3}$ 、 $\frac{n-2}{3}$ と表わしたものが10人いた。Bに属する数はすべて3でわると余りが1になるから  $n-1$ は3でわれる。ゆえに  $\frac{n-1}{3}$  つまり、Bに属する数をnと

考えて処理したものと思われる。 $\frac{n}{3}$ ,  $\frac{n-2}{3}$  も同様である。Bの要素を具体的に1, 4, 7, 10, 13……のようにかきならべて、これ等の数をnを用いて一般にどう表わせばよいだろうかと問題を提起すれば上のような誤りが生じなかったのではないかと思う。

② Aに属する数をnとするとBに属する数はn+1, cに属する数をn+2と表わしたものが5人いた。この誤りも①と同様で問題にあげているnの意味が十分につかめなかったことが原因である。

(2) 正解は65人。予想していたより誤答が多かった。1人の誤答者を除いて全員が $1^2$ を3でわったときの余りが求められていない。余りを0と答えたものが5人、余りを0, 1, としたものが2人、-2としたものが2人等である。

(3) 予想された推定がでている。文章表現も3年生になれば適確に要領よく述べている。

① 3の倍数の平方を3でわると余りが0になるが、その他の数の平方を3でわると

余りがすべて1になる。……………31人

② 平方数を3でわると余りは0か1になる。……………5人

③ 平方数を3でわると余りが2になることはない。……………2人

以上が正しい予想で計38人である。次に推定が一部のみなされているものをあげると

④ 3の倍数の平方を3でわると余りが0になる。……………2人

⑤ 3の倍数以外の数の平方を3でわると余りはすべて1になる。……………14人

また、異なったものとして

⑥ 平方数を3でわると余りが1, 1, 0, 1, 1, 0, 1, 1, 0, …の順序よくならんでいる。

……………17人(11人)

主な推定は以上のようなもので約半数の生徒が正しい予想をしていた。もう少し多くの生徒が正しい予想をしてくれるかと期待していた。慣れていないことも原因しているが③のような否定の文章表現に気づく生徒は少ない。余りが1, 1, 0, 1, 1, 0……の順に順序よくならんでいると推定した17人のうち11人の生徒がこの事柄のみ推定している。このように帰納から本質的な価値ある予想をつかむことはやはりむずかしいようである。

(2) で $1^2$ を3でわったときの余りをまちがえた生徒14人のおもな推定は次のようである。

① 余りを0と答えた生徒は

(ア) 0, 1, 0, 1, 1, 0, 1, 1, 1……というふうに0をはさみながら1のならぶ数が1つずつふえていく。

(イ) 0, 1, 0, 1, 0, 1, と順序よく0, 1, が交互にならんでいる。

(ウ) 自然数の平方を3でわると余りが0か1である。

(エ) 3の約数及び3の倍数の平方を3でわると余りが0になる。

(ア)、(イ)、は与えられた資料から全体を推定したためにおこった誤りである。自分のたてた予想が正しいかどうか更に具体的に調べてみるという態度があればかたんに気づくはずである。このような態度を日頃から養っていかなければならない。(ウ)の推定はでてこない。1が3の倍数でないことよりこの推定の誤りに気づかねばならない。

② 余りを0, 1としたり、-2とした生徒は

(ア) 3の倍数の平方を3でわると余りが0になる。

(イ) 3の倍数の平方は3でわれるが、1を除いた3の倍数以外の数の平方を3でわると余りが1になる。この推定はえられた資料から忠実に細かい点まで考えたものでよい数学的態度である。

③ 余りを2とした生徒は

3の倍数の平方を3でわると余りが0となるが、3より大きくて3の倍数以外の数の平方を3でわると余りが1となる。3より小さい数のときは3との差が余りになっている。

(4) 予想したことを検証するには証明が必要になってくる。(1)の結果を用いて正しく証明できた生徒は23人であった。また、(1)をまちがえたがしかし証明のできたものが5人いた。たとえば、Aに属する数をaとするとB、Cに属する数はそれぞれa+1, a+2, またはa-2, a-1と表わされる。a<sup>2</sup>を3でわるとaは3の倍数。だからa<sup>2</sup>を3でわると余りが0になる。(a+2)<sup>2</sup>を3でわるととき(a+2)<sup>2</sup>=a<sup>2</sup>+4a+3+1, aは3の倍数。だからa<sup>2</sup>+4a+3は3の倍数ゆえに余りが1になる。

(a+1)<sup>2</sup>を3でわったときも同様に証明している。また

Bに属する数をnとする。n<sup>2</sup>-1が3でわれることをいえばよい。n<sup>2</sup>-1=(n-1)(n+1)

ここでnは3でわると1余る数であるからn-1は3でわれる。ゆえにn<sup>2</sup>-1は3でわれる。つまりn<sup>2</sup>を3でわると余りが1となる。cに属する数をnとするとnは3でわると2余る数だからn+1は3でわれる。ゆえにn<sup>2</sup>-1は3でわれる。つまりn<sup>2</sup>を3でわると余りが1となる。一般性のかける証明をした生徒が3人いた。

3<sup>2</sup>=3×3, 6<sup>2</sup>=6×6, 9<sup>2</sup>=9×9のようにどの数も3の倍数。ゆえに3<sup>2</sup>, 6<sup>2</sup>, 9<sup>2</sup>はいずれも3でわれる。4<sup>2</sup>=4×4, 7<sup>2</sup>=7×7のようなときは4も7も3でわると余りが1だから4<sup>2</sup>, 7<sup>2</sup>を3でわったときの余りは1<sup>2</sup>を3でわったときの余りになる。5<sup>2</sup>=5×5, 8<sup>2</sup>=8×8, のようなときは5も8も3でわると余りが2。だから5<sup>2</sup>, 8<sup>2</sup>を3でわったときの余りは2<sup>2</sup>を3でわったときの余りに等しいから1となる。いつもこのようにいえるから予想は正しいといえる。3の倍数以外の数の平方を3でわると余りが1になると推定した14人の生徒のうちで証明できたものが11人いた。そのうちの5人の生徒は3の倍数の平方は3でわると余りが0になることにふれているが推定のところでこの部分がぬけていた。この中の1人の生徒は

「nが3の倍数でないときn<sup>2</sup>-1は3でわり切れる」をもとにして「ある整数aがnの倍数でないときa<sup>n-1</sup>-1はnでわり切れる」という予想までたてていた。この生徒は数学に大変な興味をもち優秀な生徒である。翌日私のところに来てあの予想は誤りであった。反例が見つかったといいこの予想を修正してフェルマーの定理を作ってきた。本人はそんなことを知る由もないわけだが君のたてた予想は整数論にでてくるフェルマーの定理だ。すばらしい予想だと最大の賛辞を与えた。本人のよろこびようは大変なものだった。

⑥の推定のみした11人の生徒のうち半数のものが大体次のように述べている。

(3n-2)<sup>2</sup>=3(3n<sup>2</sup>-4n+1)+1, (3n-1)<sup>2</sup>=3(3n<sup>2</sup>-2n)+1, (3n)<sup>2</sup>=3(3n)となるからnを自然数とすると余りが1, 1, 0, 1, 1, 0……となってくる。

帰納、類推の動きの特長は発見的であり創造的である点である。自分たちが工夫して作り出した法則、定理であるという意識をもたせ、発見、創造のよろこびを味わうことができるようにすることが大切である。また、自分は気がつかなかったが他の人の意見を聞くことによって数学的な見方、考え方を学ぶことができる点もすばらしいものである。なになにを証明せよという形式に流れるよりも結論を予想したり、仮定の一部をかえることによって結論がどうなるか予想させたりして、推測したことがらが正しいことを検証していくというプロセスが重要である。帰納から論証へのスラップや帰納から一般化へのステップにかなり抵抗があることが多い。

調査4

1. 次の㉑～㉕は2つの2けたの数とその積を示している。

㉑	72	①	53	㉒	35	㉕	41
	× 78		× 57		× 35		× 49
	-----		-----		-----		-----
	5616		3021		1225		2009

- (a) 上の2数の積は簡便な方法で求めたものである。どんな方法で求めたかかきなさい。
- (b) 上の2数の間にはどんな関係があると思うか。

2.(a) 次の㉖～㉙の2数の積を求める簡便な方法をかきなさい。

㉖	77	㉘	88	㉗	46	㉙	19
	× 28		× 37		× 33		× 55
	-----		-----		-----		-----

- (b) ㉖～㉙の各2数の特徴は何であると思うか。

この調査は、ある条件をもつ2けたの数の積を簡単な方法で求めることを推しはかることができるかどうか。また、どのように考えたかを知らうとしたものである。

調査対象は1年生でこのような簡便法についての学習は今までにはない。この簡便法の証明には、3年で学習する多項式の積が必要であり、現段階では証明はできない。しかし1年生の段階でこの調査についてどのように反応するかを知りたいと思う。

1(a)の調査結果 (調査対象1年D組41人)

簡便法が読みとれる生徒数	37人
簡便法が読みとれない生徒数	4人

簡便法が読みとれる生徒が41人中37人だから殆どの生徒が方法を一応引き出すことができる。4つの例題で適していると思われる。

調査問題の2(a)は1(a)で得た簡便法や2数の条件を手がかりにして、その簡便法を考えさせることにした。2数の積 即ち結果を示さないときはどうなるか 結果が示されているときと示されていないときでは推測のようすが異なると思われる。

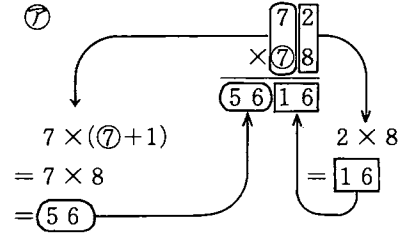
2(a)の調査結果 (調査対象1年D組41人)

簡便法がつくり出せる生徒数	25人
簡便法がつくり出せない生徒数	16人

簡便法がつくり出せる生徒数は41人中25人である。1(a)の簡便法が読みとれる生徒数37人にくらべると少ないが、25人は予想をこえる数である。生徒の推察力は強いことがわかる。簡便法がつくり出せない生徒16人のうち、無答者が6人で誤答者が10人である。誤答については後に述べる。

簡便法はどのようにするのか次に示します。

1の簡便法



㉒

$$\begin{array}{r} 53 \\ \times 57 \\ \hline 3021 \end{array}$$

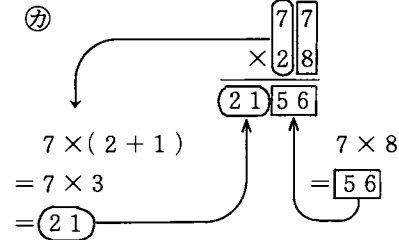
㉓

$$\begin{array}{r} 35 \\ \times 35 \\ \hline 1225 \end{array}$$

㉔

$$\begin{array}{r} 41 \\ \times 49 \\ \hline 2009 \end{array}$$

2の簡便法



㉖

$$\begin{array}{r} 88 \\ \times 37 \\ \hline 3256 \end{array}$$

㉗

$$\begin{array}{r} 46 \\ \times 33 \\ \hline 1518 \end{array}$$

㉘

$$\begin{array}{r} 19 \\ \times 55 \\ \hline 1045 \end{array}$$

1の簡便法の証明

＋の位の数が同じで、－の位の数の和が10である2つの2けたの数を  $10a + b$ 、 $10a + c$  とする。

$$\begin{aligned} & (10a + b)(10a + c) \\ &= 100a^2 + 10ac + 10ab + bc \\ &= 100a^2 + 10a(b + c) + bc \\ & \quad b + c = 10 \text{だから} \\ &= 100a^2 + 100a + bc \\ &= 100a(a + 1) + bc \end{aligned}$$

2の簡便法の証明

＋の位と－の位の数が同じ2けたの数を、 $10a + a$ 、＋の位の数と－の位の数の和が10である2けたの数を  $10b + c$  とする。

$$\begin{aligned} & (10a + a)(10b + c) \\ &= 100ab + 10ab + 10ac + ac \\ &= 100ab + 10a(b + c) + ac \\ & \quad b + c = 10 \text{だから} \\ &= 100ab + 100a + ac \\ &= 100a(b + 1) + ac \end{aligned}$$

上の2つ式の  $(a + 1)$   $(b + 1)$  はともに乗数の＋の位の数に1を加えることを示しており、簡便法の中で1を加える操作の理由である。

調査の対象は1年生だから上のような多項式を用いて証明することはできない。証明はぬきにして、簡便法はどんな方法で行なわれたか述べさせた。その調査2(1)(a)の結果をみる。

最も多かったのは次のような捉え方である。

㉑ 72 千、百の位については  $(7 \times 7 + 7) = 49 + 7 = 56$  とするものである。  
 $\times 78$  41人中19人である。生徒は  $7 \times 7$  に7を加えるという捉え方をする。勿論証明ぬきのことだから、4つの例題からうつし出されることであればどのようであってもよいわけである。教師には既成の  $7 \times (7 + 1)$  がぬき切れないので意外に思った。勿論  $7 \times (7 + 1)$  と捉えた生徒はおり、41人中11人である。

それ以外の考えでは  $72 \times 78 = 70 \times (2 + 78) + 2 \times 8$



70の(2+78)倍、つまり70が(2+78)個あるとする考えである。これは2+8=10の条件をよく用いていると思う。他には2+8=10をどちらかの数の+の位に加え、 $80 \times 70 = 5600$ をつくると考えている。また他には四捨五入して $72 \times 78 = 70 \times 80 + 2 \times 8$ と考え、同じ2数 $35 \times 35$ についてはどちらか一方を切り捨て、他方を切り上げてと補って説明している。

次に示すのはよく考えたものである。

$$\begin{aligned} 72 \times 78 &= (70 + 2) \times (70 + 8) \\ &= 70^2 + 70 \times (2 + 8) + 2 \times 8 \\ &= 7^2 \times 100 + 7 \times 100 + 2 \times 8 \\ &= 100 \times (7^2 + 7) + 2 \times 8 \end{aligned}$$

この生徒は一般的な証明を知っていて、具体例 $72 \times 78 = 5616$ の簡便法の理由を述べたのかどうかかわからない。とてもよく考える生徒であるから、㉞の計算のしくみを考えて述べたものと思

㉞ 
$$\begin{array}{r} 72 \\ \times 78 \\ \hline 5616 \end{array}$$
 う。理由の中の $70 \times (2 + 8)$ には工夫がみられる。左のかけ算の筆算形式から $70 \times 2 + 70 \times 8$ をよみ70の(2+8)倍が生ずることを見ぬいていると思う。この生徒の他にも、前述の(7×7+7)を用いた19人、

7×(7+1)を用いた11人の中にも、説明の中に70の(2+8)倍の考えを使っている生徒がいる。このことから思いあたることは日常72×78の計算は左の(A)のように何の疑念もなく行な

(A) 
$$\begin{array}{r} 72 \\ \times 78 \\ \hline 576 \\ 504 \\ \hline 5616 \end{array}$$

(B) 
$$\begin{array}{r} 72 \\ \times 78 \\ \hline 16 \\ 56 \\ 14 \\ 49 \\ \hline 5616 \end{array}$$

っているが、時には位取りや数の分解合成を視点として見直し(B)の形式をとらせるのも意義深く思う。(B)の考えは(70+2)×(70+8)で多項式の積の展開に通ずる。この簡便法は証明が3年で行なうということでは1年2年では指導していないが上記のように理由を考えれば興味深く学習できると思う。

2(a)の調査の結果 簡便法が作り出せない生徒が16人いた。この中無答者が6人で誤答者が10人であった。この誤答者10人の中7人が問題㉞(㉟)については正しいが問題㉞(㉟)について誤っている点が目立っている。問題㉞(㉟)の誤り方はいろいろあり、全く模倣的なもの、読み切れないものがある。模倣的なものは次の㉞のように乗数の十の位の数③に1を加えて行なっている。

㉞ 
$$\begin{array}{r} 46 \\ \times 33 \\ \hline 1618 \end{array}$$

これは㉞~㉟、㉞、㉟がともに乗数の十の位の数に1を加えて行なっているので、それを単に模倣したものである。これらの生徒は学習態度に問題がある。㉞  $46 \times 33 = 1518$  は筆算形式で結果を求めれば自分の考えた結果とくらべれば誤りに気づくはずである。逆に正しい結果を出してから簡便法を推測する手順をとればよいと思う。十の位の数と一の位の数が同じである2けたの数が㉞、㉟では被乗数であり、㉞、㉟では乗数になっていることが引き出せない、気づかない生徒である。

次に1(a)と2(a)の正答数と誤答数の結果を表にすると次のようである。1(a)、2(a)の簡便法を

1(a)	2(a)	正答数	無答数、誤答数	計
正答数		23	14	37
無答数、誤答数		2	2	4
計		25	16	41

正しく考えられた生徒は23人で、ともにできなかった生徒は2人である。1(a)ができ、2(a)ができなかった生徒が14人である。この簡便法を素材にしての類推

の状態は1年生では表の通りである。この状態がよいとか悪いとかを取り上げるのではなく、この種の問題では表のような状況になることを教師は知り、日々の学習指導に役立たせる資料にしたいと思う。

1(b) ㊶~㊵の2数の間には どのような関係があると思うか。

調査の結果は次のようである。

項 目	度 数
十の位が同じ数で一の位の和が10	11
十の位が同じ数	12
一の位の和が10	4
2数の和が偶数	2
2数の差が偶数	1
偶数どうし奇数どうし	1
偶数どうし奇数どうしで十の位が同じ	1
無 答	9

2(b) ㊶~㊵の各2数の特徴は何であると思うか。

調査の結果は次のようである。

項 目	度 数
十の位と一の位が同じ数で十の位と一の位の数の和10	4
十の位と一の位が同じ数	12
一方が11の倍数	1
両方とも2けたの数	1
無 答	22

1(a) ㊶~㊵の簡便法ができるためには2数の十の位が同じで、かつ一の位の数の和が10でなければならない。生徒には証明をぬきにしているので、上の2つの条件を期待することは難しいと思う。しかし11人の生徒がそれに答え、その中には理由を述べている生徒がいる。十の位の数が同じであることが読みとれる生徒は $12+11+1=24$ (人)であり、一の位の和が10であることを読みとれる生徒  $4+11=15$ (人)より多く、数が同じであることを見ぬくことは和を考えることより、よく働くことがわかる。2数の和、差が偶数、2数が偶数どうし、奇数どうしというように偶数、奇数に目をつけて見ようとしていることも数は少ないが考えさせられる。

2(b)の㊶~㊵の2数の特徴については 無答が22人で多い。十の位と一の位の数が同じであることを読みとる生徒は $12+1+4=17$ (人)であり、十の位と一の位の数の和が10であることを読みとる生徒4人より多い。

類推はその生徒の既習事項がいかに働くがよくわかる。この調査も簡便法の証明ができる3年生を対象にするとどのように反応するか。恐らく簡便法が使える理由を視点にして考えると思う。

そのような段階では更に次の㊶、㊷のように、3けたの数について簡便法はどうすればよいか考えさせてみる。また、㊸、㊹のように一の位の数が同じく、十の位の数の和が10である2けたの数について簡便法をつくらせてみることができる。

$$\begin{array}{r} \textcircled{\text{㊶}} \quad 104 \\ \times 106 \\ \hline \end{array} \quad \begin{array}{r} \textcircled{\text{㊷}} \quad 123 \\ \times 127 \\ \hline \end{array} \quad \begin{array}{r} \textcircled{\text{㊸}} \quad 27 \\ \times 87 \\ \hline \end{array} \quad \begin{array}{r} \textcircled{\text{㊹}} \quad 35 \\ \times 75 \\ \hline \end{array}$$

調査 5

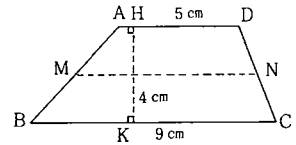
1. 台形  $ABCD$  で  $AD \parallel BC$ 、 $AD = 5 \text{ cm}$ 、 $BC = 9 \text{ cm}$   
台形の高さ  $HK = 4 \text{ cm}$  である。

(1) 台形  $ABCD$  の面積を求めなさい。

- (2) 辺  $AB$ 、辺  $CD$  の中点をそれぞれ  $M$ 、 $N$  とする。

㉞ 台形  $ABCD$  の面積は線分  $MN$  の長さ と台形の高さ  $HK$  との積と考えてよいだろうか。

㉟ 上の間で「よい」と答えた人は その理由をかきなさい。



2. 中心角が  $60^\circ$  のおうぎ形  $OAB$  と  $OCD$  が右図に示してある。  
 $OA = 9 \text{ cm}$ 、 $OC = 5 \text{ cm}$  である。

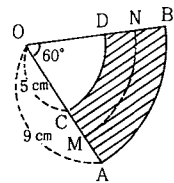
(1) 図の斜線の部分の面積を求めなさい。

- (2) 線分  $AC$ 、線分  $BD$  の中点をそれぞれ  $M$ 、 $N$  とする。

$OM$  を半径とし、中心角  $\angle MON = 60^\circ$  のおうぎ形  $OMN$  をつくる。

㉞ 図の斜線の部分の面積は弧  $MN$  の長さ と線分  $AC$  の長さ との積と考えてよいだろうか。

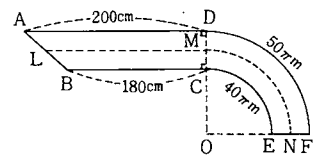
㉟ 上の間で「よい」と答えた人は その理由をかきなさい。



3. 右の図は  $AD \parallel BC$ 、 $\angle C = \angle D = 90^\circ$  の台形と中心角  $90^\circ$  の2つのおうぎ形  $ODF$  と  $OCE$  でできる図形  $CEFD$  との道路である。  
 $AD = 200 \text{ m}$ 、 $BC = 180 \text{ m}$ 、 $CD = 20 \text{ m}$ 、 $OC = 80 \text{ m}$ 、弧  $CE = 40\pi \text{ m}$ 、弧  $DF = 50\pi \text{ m}$  である。

(1) 道路  $ABCEFD$  の面積を求めなさい。

(2) (1)の道路の面積は道路の中央線  $LMN$  の長さ と道路の幅  $CD$  の長さとの積と考えてよいだろうか。



この調査では、台形の面積は線分  $MN$  の長さ と台形の高さとの積であることがわかるかどうか。次に、おうぎ形の斜線の部分の面積は弧  $MN$  の長さ と線分  $AC$  との積であることを考えるとき、上の台形での知識がどのように働くかを調べることにした。

調査対象は1年生（1年D組40人）で図形の計量についての学習は58年11月に行ない、この調査は59年3月に実施した。

1(1)、(2)㉞、2(1)、(2)㉞の調査の結果は次のようである。

	正答者数	誤答者数
1(1) 台形の面積 $28\text{cm}^2$	39	1
2(2) 扇形斜線部面積 $\frac{28}{3}\pi\text{cm}^2$	36	4

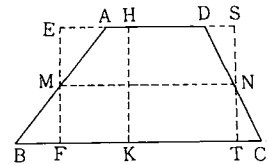
  

	よ	い	わる	い
1(2)㉞ 台形の面積 $MN \times HK$	3	7	3	
2(2)㉞ 扇形斜線部面積 $\widehat{MN} \times AC$	3	0	1	0

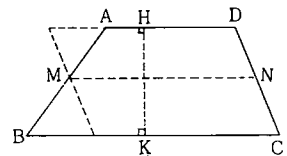
台形の面積、扇形の斜線部の面積の正答者はそれぞれ40人中39人、36人で殆どの生徒が求められる。

「台形の面積を  $MN \times HK$  で求めてよいか」という問いに対して「よい」と答えた生徒は40人中37人である。「よい」と答えた生徒のその理由について調べてみる。

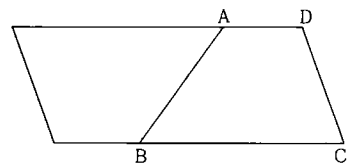
(A) 台形を長方形に変形し、2辺が  $MN$ 、 $HK$  の長方形と考える生徒で22人である。 $\triangle AEM = \triangle BFM$ 、 $\triangle DNS = \triangle CNT$  を直観的にみとめている。合同を用いて理由を述べている生徒は2人である。



(B) 台形を平行四辺形に変形し、底辺の長さを  $MN$ 、その底辺に対する高さを  $HK$  として考える生徒が2名である。



(C) 台形の中点連結定理を知っているかどうかかわからないけれど  $MN = \frac{AD+BC}{2}$  を用いて 台形の面積を求める公式を  $HK \times \frac{AD+BC}{2}$  として読み直している。この種の



生徒3人で、よく考える生徒である。

(D)  $AD = 5\text{cm}$ 、 $BC = 9\text{cm}$  より  $MN = 7\text{cm}$  とし、 $7 \times 4 = 28(\text{cm}^2)$  で 1(1)で求めた台形の面積  $28\text{cm}^2$  と同じだから「よい」と答えている。6人の生徒である。

この考え方には問題がある。 $AD$ 、 $BC$ 、 $HK$  の長さに数値が与えられているのでその数値を用いたわけであるが理由の一般性を考えると不十分である。調査の対象が1年生だから数値を与えたので、このような考え方ができるのもやむをえないと思う。

(E) 理由がない、理由がはっきりしない生徒が4人である。

理由についての生徒数をまとめると (A) 22人 (B) 2人 (C) 3人 (D) 6人 (E) 4人

「扇形の斜線部の面積を  $\widehat{MN} \times AC$  で求めてよいか」という問に対して「よい」と答えた生徒は40人中30人である。「よい」と答えた生徒の理由としていることを調べてみる。

(F) 扇形の斜線部を台形や長方形に変形して考えようとしているのが目立って多く、30人中20人である。

図1

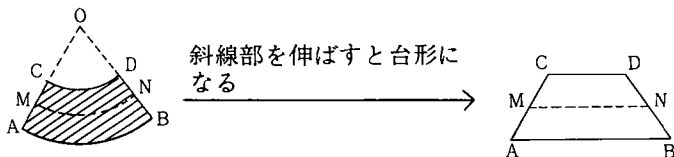


図2

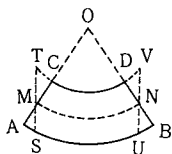


図3

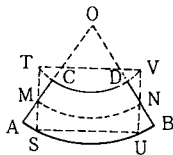
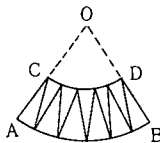


図4



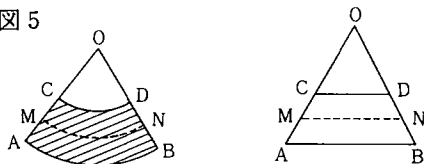
18人の生徒の理由を整理すると上の図のように代表される。これらの考え方は、一見正しそうであるが誤っている。図1では線分ACは台形の高さにはならない。図2では図形ASMと図形CTMは等積にはならない。図3では弓形SUと多形TCDVが等積にはならない。

いずれも位相的にはよく考えられ、直感的で1年生らしきがあふれている。1の問題で台形の面積について考えたので、これを手がかりに扇形について結果を推しはかろうとしている。

図4は、授業中の円の面積を求める学習から思いついたものであろう。

図5は、扇形の面積は(弧の長さ)×半径× $\frac{1}{2}$ である。これは弧の長さを底辺とし、半径を高さとする三角形の面積と等しい。だから扇形斜線部ABDCは台形ABDCとなる。台形の面積は $\widehat{MN} \times AC$ となる。これは扇形の面積は $\frac{1}{2}(\widehat{AB} \times AO)$ で三角形の面積を求める公式 $\frac{1}{2}$ (底辺×高さ)と同型であることを適用したのである。

図5



扇形斜線部の面積が $\widehat{MN} \times AC$ と等しくなるかどうかを計算によって確かめる方法をとった生徒は6名であった。 $\widehat{MN} = (7 \times 2) \pi \times \frac{1}{8}$ 、 $AC = 4$  より  $\widehat{MN} \times AC = \frac{14}{8} \pi \times 4 = \frac{7}{2} \pi$  (cm<sup>2</sup>)  
これは2(1)で求めた面積 $\frac{7}{2} \pi$  (cm<sup>2</sup>) と等しいことを述べ理由としている。

理由についての生徒数をまとめると、

- |                          |        |
|--------------------------|--------|
| (F) 図形を変形して台形、平行四辺形にする生徒 | ………20人 |
| (G) 計算によって確かめる生徒         | ………6人  |
| (H) 無答者                  | ………4人  |

図形を変形して考える(F)の生徒が30人中20人いるのは目立っている。これは台形についての調査に引き続いて扇形についての調査だから、前者は後者を類推する手がかりになることは強い。両者を時間的に切りはなした時はどうなるであろうか。区分求積的な考えや扇形の面積 $=\frac{1}{2} \times$ (弧の長さ)×(半径)を用いる生徒がふえるかどうか。D)、(G)からわかるように計算によって確かめる生徒が意外に少ない。生徒は図形による視覚を通して考えるようである。図1から図5まで、誤りはあるがよく考えている、また授業中での学習をいかして推理しようとしている。

### 3. おわりに

- (1) 数学科の学習内容の中には帰納、類推によって思考をすすめていく場面が多い。時には一般化し、時には特殊化し、各々の内容や学年に応じて適宜この方法によって理解を深めていくことが必要であると思う。
- (2) 生徒には類比、類推しようとする傾向はみられるが、まだ視覚的な類推の域にとどまっているものが多い。これは初期の段階として当然であるが、次第に論理的な思考の面にまで高めていくための練習と指導が必要である。
- (3) 条件の一部を変えて類似の問題をつくる時は、仮定と結論の両方を類比させ、その関係をつかませ、更にその証明法をもくらべさせるとよい。
- (4) 帰納、類推は発見的、創造的な学習であるから、自由な発想、直観力、洞察力を十分重んじた指導でなければならない。
- (5) 帰納によって法則や定理を見出すとき誤まった推定がなされる場合がおこる。そのことが授業の展開で有効な場合が多いので、具体例をどの程度あげるか考慮する必要がある。
- (6) 推定された事柄を論証によって検証に入る段階ではどうしても抵抗が大きい。どのように橋渡しをして証明を展開していけばよいか工夫を要するところである。
- (7) 発見、創造のよろこびを与え、問題に対する興味、関心、意欲をもたせるには帰納、類推は非常に有効でかつ適切だと思う。したがって結論を与えず、結論を予測し、検証するという過程をできるだけ多くとり入れていくことが必要である。またそれに最も適した内容を検討、精選し、生徒のもっている素晴らしい芽を大切に、このようなものの見方、考え方を伸ばしていきたいものである。